

**ПРОЕКТ**

**Государственная итоговая аттестация по образовательным программам основного общего образования в форме основного государственного экзамена (ОГЭ)**

**Демонстрационный вариант контрольных измерительных материалов для проведения в 2015 году основного государственного экзамена по МАТЕМАТИКЕ**

подготовлен Федеральным государственным бюджетным научным учреждением  
«ФЕДЕРАЛЬНЫЙ ИНСТИТУТ ПЕДАГОГИЧЕСКИХ ИЗМЕРЕНИЙ»

Математика. 9 класс

Демонстрационный вариант 2015 г. - 2 / 16

**Демонстрационный вариант контрольных измерительных материалов для проведения в 2015 году основного государственного экзамена по МАТЕМАТИКЕ**

**Пояснения к демонстрационному варианту экзаменационной работы**

При ознакомлении с демонстрационным вариантом следует иметь в виду, что включённые в него задания не отражают всех элементов содержания, которые будут проверяться с помощью вариантов КИМ в 2015 году. Разделы содержания, на которых базируются контрольные измерительные материалы, определены в спецификации; полный перечень соответствующих элементов содержания и умений, которые могут контролироваться на экзамене 2015 года, приведён в кодификаторах, размещённых на сайте [www.fipi.ru](http://www.fipi.ru).

Демонстрационный вариант предназначен для того, чтобы дать возможность участнику экзамена и широкой общественности составить представление о структуре будущей экзаменационной работы, числе и форме заданий, а также их уровне сложности. Эти сведения дают возможность выработать стратегию подготовки к сдаче экзамена по математике.

**Информация об экзаменационной работе**

**Общее время** экзамена – 235 минут.

**Характеристика работы.** Всего в работе 26 заданий, из которых 20 заданий базового уровня (часть 1), 4 задания повышенного уровня (часть 2) и 2 задания высокого уровня сложности (часть 2). Работа состоит из трёх модулей: «Алгебра», «Геометрия», «Реальная математика».

Модуль «Алгебра» содержит 11 заданий: в части 1 – восемь заданий; в части 2 – три задания. Модуль «Геометрия» содержит восемь заданий: в части 1 – пять заданий; в части 2 – три задания. Модуль «Реальная математика» содержит семь заданий: все задания – в части 1.

**Советы и указания по выполнению работы.** Сначала выполняйте задания части 1. Начать советуем с того модуля, задания которого вызывают у Вас меньше затруднений, затем переходите к другим модулям. Для экономии времени пропускайте задание, которое не удаётся выполнить сразу, и переходите к следующему. Если у Вас останется время, Вы сможете вернуться к пропущенным заданиям.

Все необходимые вычисления, преобразования и т.д. выполняйте в черновике. Записи в черновике не учитываются при оценивании работы. Если задание содержит рисунок, то на нём непосредственно в тексте работы можно выполнять необходимые Вам построения. Рекомендуем внимательно читать условие и проводить проверку полученного ответа.

Ответы к заданиям 2, 3, 8, 14 записываются в виде одной цифры, которая соответствует номеру правильного ответа. Эту цифру запишите в поле ответа в тексте работы.

Для остальных заданий части 1 ответом является число или последовательность цифр, которые нужно записать в поле ответа в тексте работы. Если в ответе получена обыкновенная дробь, обратите её в десятичную. В случае записи неверного ответа на задания части 1 зачеркните его и запишите рядом новый.

Решения заданий части 2 и ответы к ним запишите на отдельном листе или бланке. Задания можно выполнять в любом порядке, начиная с любого модуля. Текст задания переписывать не надо, необходимо только указать его номер.

При выполнении работы Вы можете воспользоваться справочными материалами.

**Как оценивается работа.** Баллы, полученные Вами за верно выполненные задания, суммируются. Для успешного прохождения итоговой аттестации необходимо набрать в сумме не менее 8 баллов, из них: не менее 3 баллов по модулю «Алгебра», не менее 2 баллов по модулю «Геометрия» и не менее 2 баллов по модулю «Реальная математика». За каждое правильно выполненное задание части 1 выставляется 1 балл. В каждом модуле части 2 задания расположены по нарастанию сложности и оцениваются в 2, 3 и 4 балла.

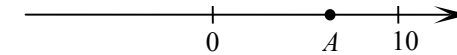
*Желаем успеха!*

**Часть 1****Модуль «Алгебра»**

**1** Найдите значение выражения  $\frac{1}{4} + 0,07$ .

Ответ: \_\_\_\_\_.

**2** На координатной прямой отмечена точка  $A$ .



Известно, что она соответствует одному из четырех указанных ниже чисел. Какому из чисел соответствует точка  $A$ ?

- 1)  $\frac{181}{16}$       2)  $\sqrt{37}$       3) 0,6      4) 4

Ответ:

**3** Значение какого из выражений является рациональным числом?

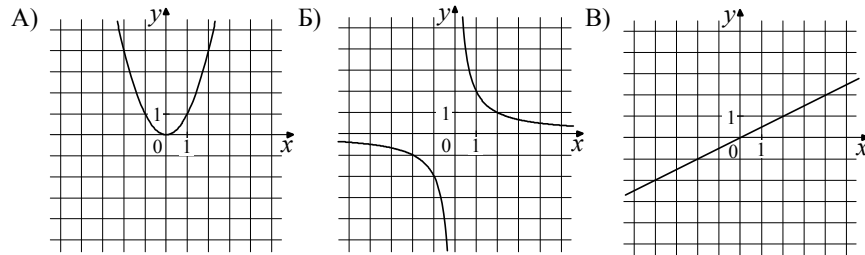
- 1)  $\sqrt{6} - 3$       2)  $\sqrt{3} \cdot \sqrt{5}$       3)  $(\sqrt{5})^2$       4)  $(\sqrt{6} - 3)^2$

Ответ:

**4** Решите уравнение  $7x - 9 = 40$ .

Ответ: \_\_\_\_\_.

**5** Установите соответствие между графиками функций и формулами, которые их задают.



- 1)  $y = x^2$                       2)  $y = \frac{x}{2}$                       3)  $y = \frac{2}{x}$

В таблице под каждой буквой, соответствующей графику, впишите номер формулы, которая его задаёт.

Ответ:

А	Б	В

**6** Даны пятнадцать чисел, первое из которых равно 6, а каждое следующее больше предыдущего на 4. Найти пятнадцатое из данных чисел.

Ответ: \_\_\_\_\_.

**7** Упростите выражение  $c(c+4) - 2c$ , найдите его значение при  $c = 0,5$ .

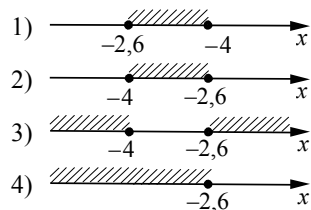
В ответ запишите полученное число.

Ответ: \_\_\_\_\_.

**8** Решите систему неравенств

$$\begin{cases} x + 2,6 \leq 0, \\ x + 5 \geq 1. \end{cases}$$

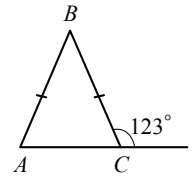
На каком рисунке изображено множество её решений?



Ответ:

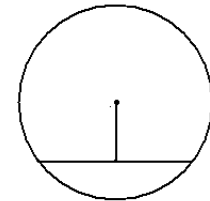
**Модуль «Геометрия»**

**9** В равнобедренном треугольнике  $ABC$  с основанием  $AC$  внешний угол при вершине  $C$  равен  $123^\circ$ . Найдите величину угла  $BAC$ . Ответ дайте в градусах.



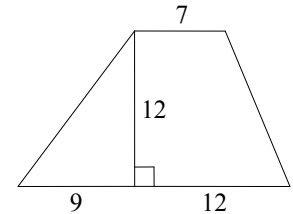
Ответ: \_\_\_\_\_.

**10** Найдите длину хорды окружности радиусом 13 см, если расстояние от центра окружности до хорды равно 5 см. Ответ дайте в см.



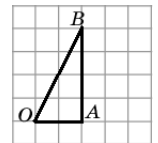
Ответ: \_\_\_\_\_.

**11** Найдите площадь трапеции, изображённой на рисунке.



Ответ: \_\_\_\_\_.

**12** Найдите тангенс угла  $AOB$ , в треугольнике, изображённом на рисунке.



Ответ: \_\_\_\_\_.

**13** Укажите номера **верных** утверждений.

- 1) Через точку, не лежащую на данной прямой, можно провести прямую, параллельную этой прямой.
- 2) Треугольник со сторонами 1, 2, 4 существует.
- 3) Если в ромбе один из углов равен  $90^\circ$ , то такой ромб — квадрат.
- 4) В любом параллелограмме диагонали равны.

Ответ: \_\_\_\_\_.

**Модуль «Реальная математика»**

- 14** В таблице приведены нормативы по бегу на 30 метров для учащихся 9-х классов.

Отметка	Мальчики			Девочки		
	«5»	«4»	«3»	«5»	«4»	«3»
Время, секунды	4,6	4,9	5,3	5,0	5,5	5,9

Какую отметку получит девочка, пробежавшая эту дистанцию за 5,36 секунды?

Ответ: \_\_\_\_\_.

- 15** На графике изображена зависимость атмосферного давления (в миллиметрах ртутного столба) от высоты над уровнем моря (в километрах). На какой высоте (в километрах) давление составит 540 миллиметров ртутного столба?

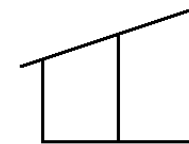


Ответ: \_\_\_\_\_.

- 16** Стоимость проезда в пригородном электропоезде составляет 198 рублей. Школьникам предоставляется скидка 50%. Сколько рублей стоит проезд группы из 4 взрослых и 12 школьников?

Ответ: \_\_\_\_\_.

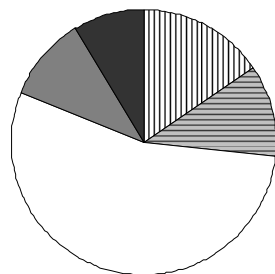
- 17** Наклонная балка поддерживается тремя столбами, стоящими вертикально на равном расстоянии друг от друга. Длины двух меньших столбов – 60 см и 90 см. Найдите длину большего столба. Ответ дайте в см.



Ответ: \_\_\_\_\_.

- 18 Завуч школы подвёл итоги контрольной работы по математике в 9-х классах. Результаты представлены на круговой диаграмме.

Результаты контрольной работы по математике.  
9 класс



- ▨ отсутствовали
- ▨ отметка «2»
- отметка «3»
- отметка «4»
- отметка «5»

Какие из утверждений относительно результатов контрольной работы **верны**, если всего в школе 120 девятиклассников?

В ответе укажите номера верных утверждений.

- 1) Более половины учащихся получили отметку «3».
- 2) Около половины учащихся отсутствовали на контрольной работе или получили отметку «2».
- 3) Отметку «4» или «5» получила примерно шестая часть учащихся.
- 4) Отметку «3», «4» или «5» получили более 100 учащихся.

Ответ: \_\_\_\_\_.

- 19 На тарелке лежат пирожки, одинаковые на вид: 4 с мясом, 8 с капустой и 3 с яблоками. Петя наугад выбирает один пирожок. Найдите вероятность того, что пирожок окажется с яблоками.

Ответ: \_\_\_\_\_.

- 20 Период колебания математического маятника  $T$  (в секундах) приближенно можно вычислить по формуле  $T = 2\sqrt{l}$ , где  $l$  — длина нити (в метрах). Пользуясь этой формулой, найдите длину нити маятника (в метрах), период колебаний которого составляет 3 секунды.

Ответ: \_\_\_\_\_.

## Часть 2

При выполнении заданий 21–26 используйте отдельный лист. Сначала укажите номер задания, а затем запишите его решение и ответ. Пишите чётко и разборчиво.

### Модуль «Алгебра»

- 21 Сократите дробь  $\frac{18^{n+3}}{3^{2n+5} \cdot 2^{n-2}}$ .

- 22 Рыболов в 5 часов утра на моторной лодке отправился от пристани против течения реки, через некоторое время бросил якорь, 2 часа ловил рыбу и вернулся обратно в 10 часов утра того же дня. На какое расстояние от пристани он отплыл, если скорость течения реки равна 2 км/ч, а собственная скорость лодки 6 км/ч?

- 23 Постройте график функции  $y = \frac{x^4 - 13x^2 + 36}{(x-3)(x+2)}$  и определите, при каких значениях параметра  $c$  прямая  $y = c$  имеет с графиком ровно одну общую точку.

### Модуль «Геометрия»

- 24 В прямоугольном треугольнике  $ABC$  с прямым углом  $C$  известны катеты:  $AC = 6$ ,  $BC = 8$ . Найдите медиану  $CK$  этого треугольника.

- 25 В параллелограмме  $ABCD$  точка  $E$  — середина стороны  $AB$ . Известно, что  $EC = ED$ . Докажите, что данный параллелограмм — прямоугольник.

- 26 Основание  $AC$  равнобедренного треугольника  $ABC$  равно 12. Окружность радиуса 8 с центром вне этого треугольника касается продолжений боковых сторон треугольника и касается основания  $AC$ . Найдите радиус окружности, вписанной в треугольник  $ABC$ .

## Система оценивания экзаменационной работы по математике

За правильный ответ на задания 1–20 ставится 1 балл.

## Ответы к заданиям части 1

Номер задания	Правильный ответ
1	0,32
2	2
3	3
4	7
5	132
6	62
7	1,25
8	2
9	57
10	24
11	168
12	2
13	13 или 31
14	4
15	2,5
16	1980
17	120
18	13
19	0,2
20	2,25

Решения и критерии оценивания заданий части 2  
Модуль «Алгебра»

21

Сократите дробь  $\frac{18^{n+3}}{3^{2n+5} \cdot 2^{n-2}}$ .

Решение.

$$\frac{18^{n+3}}{3^{2n+5} \cdot 2^{n-2}} = \frac{(9 \cdot 2)^{n+3}}{3^{2n+5} \cdot 2^{n-2}} = \frac{3^{2n+6} \cdot 2^{n+3}}{3^{2n+5} \cdot 2^{n-2}} = 3^{2n+6-(2n+5)} \cdot 2^{n+3-(n-2)} = 3 \cdot 2^5 = 96.$$

Ответ: 96.

Баллы	Критерии оценки выполнения задания
2	Правильно выполнены преобразования, получен верный ответ
1	Решение доведено до конца, но допущена ошибка вычислительного характера или описка, с её учётом дальнейшие шаги выполнены верно
0	Другие случаи, не соответствующие указанным выше критериям
2	Максимальный балл

22

Рыболов в 5 часов утра на моторной лодке отправился от пристани против течения реки, через некоторое время бросил якорь, 2 часа ловил рыбу и вернулся обратно в 10 часов утра того же дня. На какое расстояние от пристани он отплыл, если скорость реки равна 2 км/ч, а собственная скорость лодки 6 км/ч?

Решение.

Пусть искомое расстояние равно  $x$  км. Скорость лодки при движении против течения равна 4 км/ч, при движении по течению равна 8 км/ч. Время, за которое лодка доплывёт от места отправления до места назначения и обратно, равно  $\left(\frac{x}{4} + \frac{x}{8}\right)$  часа. Из условия задачи следует, что это время равно

$$3 \text{ часа. Составим уравнение: } \frac{x}{4} + \frac{x}{8} = 3.$$

Решив уравнение, получим  $x = 8$ .

Ответ: 8 км.

Баллы	Критерии оценки выполнения задания
3	Правильно составлено уравнение, получен верный ответ
2	Правильно составлено уравнение, но при его решении допущена вычислительная ошибка, с её учётом решение доведено до ответа
0	Другие случаи, не соответствующие указанным критериям
3	Максимальный балл

23

Постройте график функции  $y = \frac{x^4 - 13x^2 + 36}{(x-3)(x+2)}$  и определите, при каких значениях параметра  $c$  прямая  $y = c$  имеет с графиком ровно одну общую точку.

Решение. Разложим числитель дроби на множители:

$$x^4 - 13x^2 + 36 = (x^2 - 4)(x^2 - 9) = (x-2)(x+2)(x-3)(x+3)$$

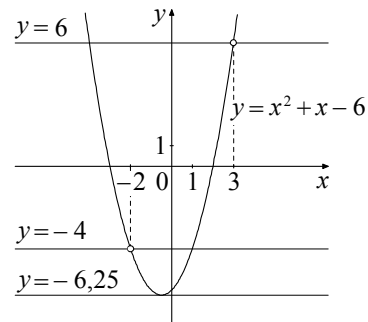
При  $x \neq -2$  и  $x \neq 3$  функция принимает вид:

$$y = (x-2)(x+3) = x^2 + x - 6,$$

её график — парабола, из которой выколоты точки  $(-2; -4)$  и  $(3; 6)$ .

Прямая  $y = c$  имеет с графиком ровно одну общую точку либо тогда, когда проходит через вершину параболы, либо тогда, когда пересекает параболу в двух точках, одна из которых — выколотая. Вершина параболы имеет координаты  $(-0,5; -6,25)$ .

Поэтому  $c = -6,25$ ,  $c = -4$  или  $c = 6$ .



Баллы	Критерии оценивания выполнения задания
4	График построен правильно, верно указаны все значения $c$ , при которых прямая $y = c$ имеет с графиком только одну общую точку
3	График построен правильно, указаны не все верные значения $c$
0	Другие случаи, не соответствующие указанным выше критериям
4	Максимальный балл

Модуль «Геометрия»

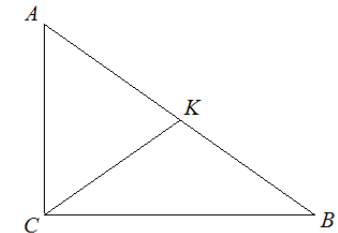
24

В прямоугольном треугольнике  $ABC$  с прямым углом  $C$  известны катеты:  $AC = 6$ ,  $BC = 8$ . Найдите медиану  $CK$  этого треугольника.

Решение.

$$CK = \frac{1}{2} AB = \frac{1}{2} \sqrt{AC^2 + BC^2} = \frac{1}{2} \sqrt{36 + 64} = 5.$$

Ответ: 5.



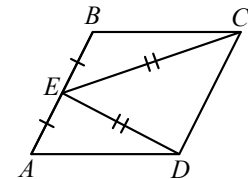
Баллы	Критерии оценки выполнения задания
2	Получен верный обоснованный ответ
1	При верных рассуждениях допущена вычислительная ошибка, возможно приведшая к неверному ответу
0	Другие случаи, не соответствующие указанным критериям
2	Максимальный балл

25

В параллелограмме  $ABCD$  точка  $E$  — середина стороны  $AB$ . Известно, что  $EC = ED$ . Докажите, что данный параллелограмм — прямоугольник.

Доказательство. Треугольники  $BEC$  и  $AED$  равны по трём сторонам.

Значит, углы  $CBE$  и  $DAE$  равны. Так как их сумма равна  $180^\circ$ , то углы равны  $90^\circ$ . Такой параллелограмм — прямоугольник.



Баллы	Критерии оценки выполнения задания
3	Доказательство верное, все шаги обоснованы
2	Доказательство в целом верное, но содержит неточности
0	Другие случаи, не соответствующие указанным критериям
3	Максимальный балл

- 26 Основание  $AC$  равнобедренного треугольника  $ABC$  равно 12. Окружность радиуса 8 с центром вне этого треугольника касается продолжений боковых сторон треугольника и касается основания  $AC$ . Найдите радиус окружности, вписанной в треугольник  $ABC$ .

Решение.

Пусть  $O$  — центр данной окружности, а  $Q$  — центр окружности, вписанной в треугольник  $ABC$ .

Точка касания  $M$  окружностей делит  $AC$  пополам.

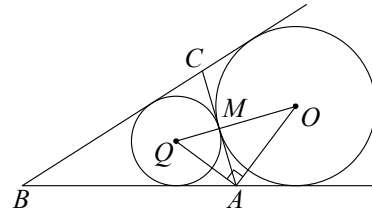
$AQ$  и  $AO$  — биссектрисы смежных углов, значит, угол  $OAQ$  прямой. Из

прямоугольного треугольника  $OAQ$  получаем:  $AM^2 = MQ \cdot MO$ .

Следовательно,

$$QM = \frac{AM^2}{OM} = \frac{9}{2} = 4,5.$$

Ответ: 4,5.



Баллы	Критерии оценки выполнения задания
4	Ход решения верный, все его шаги выполнены правильно, получен верный ответ
3	Ход решения верный, чертёж соответствует условию задачи, но пропущены существенные объяснения или допущена вычислительная ошибка
0	Другие случаи, не соответствующие указанным критериям
4	Максимальный балл

В соответствии с Порядком проведения государственной итоговой аттестации по образовательным программам основного общего образования (приказ Минобрнауки России от 25.12.2013 № 1394 зарегистрирован Минюстом России 03.02.2014 № 31206)

«48. Экзаменационные работы проверяются двумя экспертами. По результатам проверки эксперты независимо друг от друга выставляют баллы за каждый ответ на задания экзаменационной работы... В случае существенного расхождения в баллах, выставленных двумя экспертами, назначается третья проверка. Существенное расхождение в баллах определено в критериях оценивания по соответствующему учебному предмету.

Третий эксперт назначается председателем предметной комиссии из числа экспертов, ранее не проверявших экзаменационную работу.

Третьему эксперту предоставляется информация о баллах, выставленных экспертами, ранее проверявшими экзаменационную работу обучающегося. Баллы, выставленные третьим экспертом, являются окончательными».

1. Работа направляется на третью проверку, если расхождение в баллах, выставленных двумя экспертами за выполнение любого из заданий, составляет 2 и более балла.

*В этом случае третий эксперт проверяет только то задание, которое было оценено двумя экспертами со столь существенным расхождением.*

2. Работа участника ГИА-9 направляется на третью проверку при наличии расхождений в двух и более заданиях.

*В этом случае третий эксперт перепроверяет все задания с развёрнутым ответом 21–26.*